

پانچواں مہینا، دوسرا ہفتہ، دوسرا دن **اسلیپس**: باب نمبر 11 (دوسرا نصف): مشق سوال نمبر 1، 2

سوال نمبر 1۔ خالی جگہ پُر کریں۔

(4)






(i) پانی ماڈہ کی حالتوں میں پایا جاتا ہے۔

(ii) ٹھوس اشیا کی شکل ہوتی ہے۔

(iii) تمام ماڈی اشیا کا ہوتا ہے۔

(iv) درجہ حرارت میں تبدیلی کی وجہ سے کی حالت تبدیل ہو سکتی ہے۔

سوال نمبر 2۔ دی گئی تصاویر میں سے ٹھوس، مائع اور گیس کی شناخت کریں اور ہر تصویر کے نیچے لکھیں کہ وہ ماڈہ کی کون سی حالت ہے۔ (6)



پانچواں مہینا، دوسرا ہفتہ، دوسرا دن **اسلیپس**: باب نمبر 11 (دوسرا نصف): مشق سوال نمبر 1، 2

سوال نمبر 1۔ خالی جگہ پُر کریں۔

(4)

(i) پانی ماڈہ کی حالتوں میں پایا جاتا ہے۔

(ii) ٹھوس اشیا کی شکل ہوتی ہے۔

(iii) تمام ماڈی اشیا کا ہوتا ہے۔

(iv) درجہ حرارت میں تبدیلی کی وجہ سے کی حالت تبدیل ہو سکتی ہے۔

سوال نمبر 2۔ دی گئی تصاویر میں سے ٹھوس، مائع اور گیس کی شناخت کریں اور ہر تصویر کے نیچے لکھیں کہ وہ ماڈہ کی کون سی حالت ہے۔ (6)

